

GRUPO ESCOLAR MUNICIPAL MONTEIRO LOBATO

ATIVIDADES COMPLEMENTARES

3ª ANO

PROFESSOR (A): MARINES BASSO (Regente da Turma)

GILBERTO BET (Informática)

MARCOS MARMENTINI (Artes)

LORECI POZZER (Dança)

CAMILA BRUM (Educação Física)

RAQUEL ADRIANA SOUZA (Inglês)

Coronel Martins, 01 de julho de 2020

Escola : Grupo Escolar Municipal Monteiro Lobato

Professora : Marines Luzia Basso

Aluno : _____

3º ano

Data : _____

Disciplina : Portugues



ENCONTROS CONSONANTAIS DO R

br cr dr fr gr pr tr vr

1) As palavras do quadro estão misturadas. Leia-as e, depois, escreva-as nas colunas certas.



grama	praia	Cristina	livro
trigo	grito	palavra	preto
alegre	truque	fraco	frio
primo	Rodrigo	bravo	broa
cravo	zebra	livre	creme
fruta	Patrícia	madrugada	pedra

br	cr	dr	fr
gr	pr	tr	vr

Separe as sílabas :

grama : _____

madrugada : _____

pedra : _____

creme : _____

Escola : Grupo Escolar Municipal Monteiro Lobato

Professora : Marines


Aluno : _____

3º ano

Data : __/____/2020

Disciplina : geografia

A roda



Já pensaste como seria a vida do Homem sem conhecer a roda?

Repara em como ele se cansou, transportando nas mãos, nos braços, às costas, aquilo de que precisava.

Um dia reconheceu que, arrastando os fardos, se esforçava menos. Em cima de um tronco era ainda mais fácil...Mais tarde descobriu que os fardos em cima de dois pedaços de um tronco deslizavam melhor.

Com o tempo, o Homem inventou a roda. Depois meteu-lhe um eixo. Abriu-lhe cavidades para a tornar mais leve. Ajustou-lhe raios. Descobriu ainda que, com um aro de borracha, a roda deslizava mais suavemente. E assim, de descoberta em descoberta, o Homem fabricou os pneus que hoje rolam em todos os caminhos do Mundo.

Alice Gomes

1- O texto fala de uma grande invenção .Qual é essa invenção ?

() carro () bicicleta () roda

2- Antes de inventar a roda como as coisas eram transportadas pelo homem ?

R_____

3- Que tipo de texto você leu :

() bilhete

() fábula

() texto informativo

Escola : Grupo Escolar Municipal Monteiro Lobato

Professora : Marines

Aluno : _____

3º ano

Data : _____

Disciplina : matemática

1- Qual dessas notas tem mais valor.Faça um x :



()



()



()



()

2- Rafael comprou a bola e a peteca .Quantos reais ele gastou no total ?



R\$ 20,00



R\$ 10,00

cálculo :

Resposta :

3- A Rafael vai comprar uma bola que custa R\$ 20,00 e vai pagar com uma nota de R\$ 50,00.Quanto Rafael vai receber de troco?

Escola : Grupo Escolar Municipal Monteiro Lobato

Professora : Marines

Aluno : _____

3º ano

Data : _____













Disciplina : matemática

1- Mário coleciona carrinhos. Ele tem 28 carrinhos em uma caixa .hoje ele vai colocar mais 4 carrinhos .Quantos carrinhos ficarão na caixa ?

cálculo :

Resposta :

Ligue cada soma ao resultado :



Escola : Grupo Escolar Municipal Monteiro Lobato

Professora : Marines

Aluno : _____


3º ano

Data : __/____/2020

Disciplina : Geografia

Bairro

O bairro é uma parte da cidade.
Os bairros são diferentes.
Cada um tem um nome.
A reunião de vários bairros
formam a cidade ou a zona
urbana.
Várias cidades formam o estado.
Toda cidade é uma parte do
Brasil.
A reunião de vários estados
formam o Brasil.



1- Na nossa cidade onde moramos tem bairro ?

() sim () não

2- Escreva o que podemos encontrar em um bairro ?

3 - O bairro é uma parte da zona :

() rural

() urbana

4- Nós moramos no Estado de _____

5- Nosso país é o _____

6- Toda cidade é uma parte do _____

Escola : Grupo Escolar Municipal Monteiro Lobato

Professora : Marines

Aluno : _____


3º ano

Data : _____

Disciplina : Portugues

A Minha Casa

Era uma vez uma família bem diferente. A mãe era mesa, o pai o armário e as crianças as cadeiras.



Todos moravam em uma cozinha bem espaçosa.

O pai era sério e protetor, guardava com zelo os objetos mais delicados da casa.

A mãe se preocupava com as crianças, fazendo questão que elas sempre ficassem ao seu redor. E, estas por sua vez, danadinhas, não paravam quietas.



Esta família vive na casa de outra família feliz, a minha.



(Tomazzo,1994)

1- Qual é o título do texto ?

R- _____

2- Quantas pessoas vivem em sua família ?

R- _____

3- Quais são os objetos que aparecem no texto : Faça um (x)

- () geladeira
- () mesa
- () cama
- () armário
- () cadeiras

Escola : Grupo Escolar Municipal Monteiro Lobato

Professora : Marines

Aluno : _____

3º ano

Data : __/____/2020

Disciplina : Ensino Religioso

Texto: Parábola da Ovelha Perdida

Um pastor tem 100 ovelhas e perde uma delas. O que ele faz? Ele deixa as 99 e vai procurar a ovelha perdida até encontrá-la . E quando encontrou ficou muito contente, colocou nos ombros e levou para casa.

E chegando em sua casa, reuniu amigos e vizinhos e disse:

- Alegrem-se comigo, pois encontrei a minha ovelha perdida.



2- Agora de acordo com o texto responda:

a) Qual o título do texto?

b) Quantas ovelhas tinha o pastor?

c) Quantas ovelhas se perderam?

d) Quem cuidava das ovelhas?

Escola : Grupo Escolar Municipal Monteiro Lobato

Professora : Marines

Aluno : _____

3º ano

Data : _____


Disciplina : Portugues

Organize as frases de acordo com o número e escreva abaixo:



PIPA MENINO GOSTA O SOLTAR DE

(6) (2) (3) (1) (5) (4)



BRINCAM AS PIÃO CRIANÇAS DE

(3) (1) (5) (2) (4)



RUA AS CRIANÇAS RODA DE BRINCAM NA

(7) 1 (2) (5) (4) (3) (6)



AMARELINHA LEGAL DE BRINCAR É

(3) (5) (2) (1) (4)

Complete as frases :

O _____ brinca com o _____

O _____ come _____

O _____ brinca com a _____

Escola : Grupo Escolar Municipal Monteiro Lobato

Professora : Marines

Aluno : _____

3º ano

Data : __/____/2020

Disciplina : história

Os problemas da cidade

Até a década de 1950 a maioria dos brasileiros viviam na região rural .A partir de então, as pessoas foram saindo do campo em busca de trabalho ,e hoje a maior parte da população mora nas cidades.

Muitas cidades brasileiras foram crescendo rapidamente ,e com isso surgiram muitos problemas para a sociedade e para o ambiente ,como moradias precárias,desemprego,desigualdade social,mau atendimento na área da saúde, poucas creches e escolas e poluição do meio ambiente .

Alguns serviços e direitos para que todos tenham uma boa qualidade de vida :
Direito a escola,coleta de lixo, saúde ,casa pra morar, água encanada.



1- Você conhece alguns dos serviços nas imagens acima :

Escreva 2 serviços :

Escola : Grupo Escolar Municipal Monteiro Lobato

Professora : Marines

Aluno : _____

3º ano

Data : _____

Disciplina : Matemática

Observe a tabela e responda :

ALUNO	MATEMÁTICA	ARTES	PORTUGUÊS	CIÊNCIAS
VITOR	6	8	10	7
LIA	4	10	9	6
RITA	10	8	8	5
CAIO	7	5	5	4

1- Quem tirou a maior nota em português :

R - _____

2- Quem tirou nota 5 em ciências :

R- _____

3- Quem tirou a menor nota em matemática :

R- _____

4- Quais foram os alunos que tiraram a mesma nota :

R- _____

5) Complete a sequência do quadro abaixo:

2	4	6					
	20		24		28		32
34		38		42		46	

6) De o antecessor e o sucessor: (vizinho)

_____ 34 _____ _____ 79 _____ _____ 49 _____
_____ 10 _____ _____ 19 _____ _____ 91 _____
_____ 8 _____ _____ 5 _____ _____ 2 _____

7) Resolva os fatos:

$2 + 2 =$ _____ $3 + 6 =$ _____ $8 + 2 =$ _____
 $11 - 5 =$ _____ $9 - 3 =$ _____ $10 - 7 =$ _____


8) Ligue fazendo a correspondência:

Duas dezenas e seis unidades

Uma dezena e uma unidade

Uma dezena

Meia dezena



9) Resolva as operações:

$\begin{array}{r l} D & U \\ \hline 1 & 2 \\ + & 34 \\ \hline \end{array}$	$\begin{array}{r l} D & U \\ \hline 2 & 3 \\ + & 41 \\ \hline \end{array}$	$\begin{array}{r l} D & U \\ \hline 1 & 7 \\ + & 32 \\ \hline \end{array}$	$\begin{array}{r l} D & U \\ \hline 7 & 8 \\ - & 21 \\ \hline \end{array}$	$\begin{array}{r l} D & U \\ \hline 8 & 9 \\ - & 13 \\ \hline \end{array}$	$\begin{array}{r l} D & U \\ \hline 4 & 5 \\ - & 34 \\ \hline \end{array}$
--	--	--	--	--	--

Escola : Grupo Escolar Municipal Monteiro Lobato

Professora : Marines

Aluno : _____

3º ano

Data : __/__/2020

Disciplina : ciencias

Meu corpo se movimentata

Faça um relatório, registrando as atividades que você realiza com seu corpo durante o dia:



MANHÃ	_____ _____
TARDE	_____ _____
NOITE	_____ _____

Escola : Grupo Escolar Municipal Monteiro Lobato

Professora : Marines

Aluno : _____

3º ano

Data : _____

Disciplina : Portugues



UMA AULA INTERESSANTE

A professora Flávia levou sua classe à biblioteca para uma aula sobre o globo terrestre.

Plínio, o mais curioso da turma, perguntou:

— Este é o nosso planeta, não é professora?

— Sim, Plínio, este globo representa o lugar onde moramos.

É a Terra.

Cleonice, uma aluna aplicada, completou:

— Professora, aprendi que a parte azul-clara do globo representa os oceanos, rios e lagos, é verdade?

— Isso mesmo, “Cleo”! Você e Plínio são muito espertos!

— Foi o meu avô Clênio que me explicou, disse Cleonice.

— Parabéns, agora vocês vão conhecer muito mais sobre o nosso planeta.

Graça Batituci



1) Circule, no texto, as palavras com **fl**, **bl**, **gl**, **pl**, **cl** e, depois, escreva seis delas abaixo.

Escola : Grupo Escolar Municipal Monteiro Lobato

Professora : Marines

Aluno : _____

3º ano


Data : __/____/2020

Disciplina : Geografia

A rua de Pedro

A rua de Pedro no passado era calma, com poucos automóveis circulando. Com o passar do tempo, houve o aumento do número de moradias e lojas de comércio, transformando a rua calma em uma rua movimentada.

A rua ganhou asfalto e um sinal de trânsito, conhecido como semáforo .



As ruas vão se modificando conforme vão sendo ocupadas.

As pessoas precisam ter próximo às suas casas comércio, escola, hospital, transporte e muitas outras coisas para facilitar suas vidas.

Todas essas necessidades vão transformando os lugares.

1- Como era a rua de Pedro no passado :

() agitada () calma

2- O que a rua de Pedro ganhou ?

R _____

Escola : Grupo Escolar Municipal Monteiro Lobato

Professora : Marines

Aluno : _____

3º ano

Data : _____

Disciplina : Matemática

1- Leia e complete com o número :

DEZESSEIS _____

DOZE _____

ONZE _____

VINTE _____

DEZESSETE _____


DEZENOVE _____

DEZ _____

TRÊS _____

CINCO _____

QUATORZE _____



$$\begin{array}{r} 136 \\ + 423 \\ \hline \end{array}$$

$$\begin{array}{r} 225 \\ + 524 \\ \hline \end{array}$$

$$\begin{array}{r} 302 \\ + 456 \\ \hline \end{array}$$

$$\begin{array}{r} 330 \\ + 540 \\ \hline \end{array}$$

$$\begin{array}{r} 201 \\ + 720 \\ \hline \end{array}$$

$$\begin{array}{r} 985 \\ - 102 \\ \hline \end{array}$$

$$\begin{array}{r} 759 \\ - 259 \\ \hline \end{array}$$

$$\begin{array}{r} 863 \\ - 351 \\ \hline \end{array}$$

$$\begin{array}{r} 698 \\ - 172 \\ \hline \end{array}$$

$$\begin{array}{r} 545 \\ - 421 \\ \hline \end{array}$$

Escola : Grupo Escolar Municipal Monteiro Lobato

Professora : Marines

Aluno : _____

3º ano

Data : _____

Disciplina : Matemática

Ligue os fatos corretamente :

$5 \times 5 = _$

12

$6 \times 6 = _$

$3 \times 3 = _$

24

$9 \times 2 = _$

$8 \times 3 = _$

9

$2 \times 6 = _$

$3 \times 4 = _$

16

$4 \times 4 = _$

$4 \times 6 = _$

49

$6 \times 3 = _$

$3 \times 6 = _$

18

$2 \times 8 = _$

$4 \times 3 = _$

36

$6 \times 2 = _$

$2 \times 9 =$

25

$6 \times 4 = _$

$7 \times 7 =$

$3 \times 8 = _$

$8 \times 2 = _$

Uma mesa tem 4 pés .Quantos pés tem duas mesas?

cálculo :

Resposta :

Escola : Grupo Escolar Municipal Monteiro Lobato

Professora : Marines

Aluno : _____

3º ano

Data : ___/___/2020

Disciplina : Geografia



Geografia



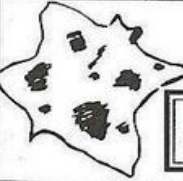


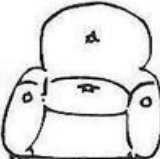

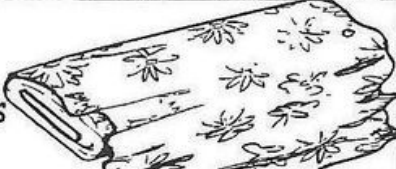
O trabalho na Indústria

Complete e leia: ba tra lham

▶ Nas cidades as pessoas em indústrias ou fábricas. As indústrias transformam matérias-primas em produtos industrializados. tu re Na za

▶ Matéria-prima é o material que a fornece. Produto industrializado é aquele já transformado pelas qui nas má

© Veja os exemplos:

Matéria-prima	Produto industrializado
 TE MA TO	© Molho de tomate enlatado 
 RO COU	© Sapato  © Bolsa  © Sofá 
 DÃO GO AL	© Tecido para roupas 

Escola : Grupo Escolar Municipal Monteiro Lobato

Professora : Marines


Aluno : _____

3º ano

Data : _____

Disciplina : Português e ciências

1- Observe as imagens abaixo e responda às questões a seguir.



a) Quando Chico Bento saiu de casa para onde ele foi?

Para o riacho. Para o quarto. Para a cozinha

b) O que Chico Bento fez nesse lugar?

Pescou Escovou os Em vez de pescar,
 muitos peixes. dentes. ele dormiu.

2- Numere as frases abaixo de acordo com as imagens acima

- () Chico Bento está dormindo
- () A família toma café da manhã
- () Chico Bento corre até o riacho

3- Na imagem 1 quem apareceu na cena?

_____, _____ e _____

4- Cite 5 nomes de seres não vivos que aparecem na cena **2**.

_____, _____, _____,
_____ e _____.

5- E na cena 3 os seres vivos são:

- () sol
- () Chico Bento
- () árvore
- () grama
- () as iscas
- () pedra

6- Ilustre um ambiente com seres vivos e seres não vivos.



Escola : Grupo Escolar Municipal Monteiro Lobato

Professora : Marines

Aluno : _____

3º ano

Data : ___/___/2020

Disciplina : Ensino Religioso


COMPLETE & Pinte




Escreva os nomes do que Deus criou, de acordo com cada desenho abaixo e depois pinte.




Deus criou a _____




Deus criou o _____



Deus criou as _____




Deus criou os _____



Deus criou os _____



Deus criou os _____



Deus criou o _____ e a _____

Escola : Grupo Escolar Municipal Monteiro Lobato

Professora : Marines

Aluno : _____

3º ano


Data : _____

Disciplina : Portugues



CAÇANDO PALAVRAS COM RR

1) Procure, no caça-palavras, os nomes dos desenhos e, depois, escreva-os abaixo.



M	A	R	R	E	C	O	Y	B	U	R	R	O	C	N	K	L	T
O	S	J	A	R	R	A	T	P	B	I	G	A	P	R	L	M	S
V	N	C	B	T	M	A	D	A	R	S	O	D	M	T	A	V	W
C	A	R	R	O	D	L	R	S	T	S	E	R	R	O	T	E	B
A	B	C	D	E	F	G	H	I	J	K	G	A	R	R	A	F	A

Separe as sílabas : exemplo : gar- ra- fa

marreco = _____

carro = _____

garrafa - _____

serrate - _____

jarra - _____

Escola : Grupo Escolar Municipal Monteiro Lobato

Professora : Marines

Aluno : _____

3º ano

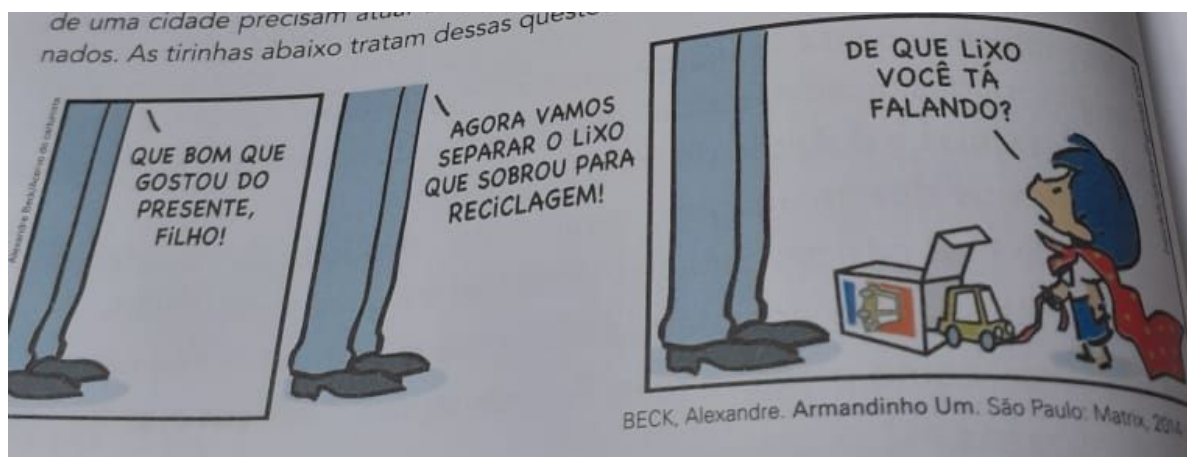
Data : __/____/2020

Disciplina : História e ciências

Assim também aprendo :

A falta de rede de esgoto e água tratada, o insuficiente tratamento do lixo e a poluição do ar e das águas são problemas ambientais nas cidades .

Observe a tirinha abaixo :



1- O que o pai de Armandinho considerou lixo ?

R- _____

O QUE É RECICLAGEM

É uma atividade geralmente industrial que transforma os materiais já usados em outros produtos que podem ser comercializados. Como papéis velhos transformam-se em novas folhas ou em caixas de papelão, os vidros em novas garrafas ou fracos, os plásticos em vassouras, potes, camisetas; os metais em novas latas ou recipientes.

Escola : Grupo Escolar Municipal Monteiro Lobato

Professora : Marines

Aluno : _____

3º ano

Data : _____

Disciplina : Matemática

MOSTRANDO PLAQUINHAS

RESOLVA OS FATOS E LIGUE A PLAQUINHA CORRESPONDENTE:

$12 - 7 =$

$12 - 3 =$


$12 - 8 =$

$12 - 6 =$

$12 - 9 =$

$12 - 4 =$

$12 - 5 =$



Resolva as adições abaixo com reserva :

$\begin{array}{r} \bigcirc \\ + 37 \\ \hline 25 \end{array}$	$\begin{array}{r} \bigcirc \\ + 35 \\ \hline 19 \end{array}$	$\begin{array}{r} \bigcirc \\ + 85 \\ \hline 15 \end{array}$	$\begin{array}{r} \bigcirc \\ + 27 \\ \hline 13 \end{array}$	$\begin{array}{r} \bigcirc \\ + 75 \\ \hline 16 \end{array}$
$\begin{array}{r} \bigcirc \\ + 49 \\ \hline 11 \end{array}$	$\begin{array}{r} \bigcirc \\ + 64 \\ \hline 18 \end{array}$	$\begin{array}{r} \bigcirc \\ + 44 \\ \hline 16 \end{array}$	$\begin{array}{r} \bigcirc \\ + 28 \\ \hline 02 \end{array}$	$\begin{array}{r} \bigcirc \\ + 18 \\ \hline 17 \end{array}$
$\begin{array}{r} \bigcirc \\ + 19 \\ \hline 17 \end{array}$	$\begin{array}{r} \bigcirc \\ + 46 \\ \hline 34 \end{array}$	$\begin{array}{r} \bigcirc \\ + 15 \\ \hline 36 \end{array}$	$\begin{array}{r} \bigcirc \\ + 45 \\ \hline 09 \end{array}$	$\begin{array}{r} \bigcirc \\ + 45 \\ \hline 45 \end{array}$

$\begin{array}{r} \bigcirc \\ + 37 \\ \hline 25 \end{array}$	$\begin{array}{r} \bigcirc \\ + 35 \\ \hline 19 \end{array}$	$\begin{array}{r} \bigcirc \\ + 85 \\ \hline 15 \end{array}$	$\begin{array}{r} \bigcirc \\ + 27 \\ \hline 13 \end{array}$	$\begin{array}{r} \bigcirc \\ + 75 \\ \hline 16 \end{array}$
$\begin{array}{r} \bigcirc \\ + 49 \\ \hline 11 \end{array}$	$\begin{array}{r} \bigcirc \\ + 64 \\ \hline 18 \end{array}$	$\begin{array}{r} \bigcirc \\ + 44 \\ \hline 16 \end{array}$	$\begin{array}{r} \bigcirc \\ + 28 \\ \hline 02 \end{array}$	$\begin{array}{r} \bigcirc \\ + 18 \\ \hline 17 \end{array}$
$\begin{array}{r} \bigcirc \\ + 19 \\ \hline 17 \end{array}$	$\begin{array}{r} \bigcirc \\ + 46 \\ \hline 34 \end{array}$	$\begin{array}{r} \bigcirc \\ + 15 \\ \hline 36 \end{array}$	$\begin{array}{r} \bigcirc \\ + 45 \\ \hline 09 \end{array}$	$\begin{array}{r} \bigcirc \\ + 45 \\ \hline 45 \end{array}$

Escola : Grupo Escolar Municipal Monteiro Lobato

Professora : Marines Basso

Aluno : _____

3º ano

Data : __/____/2020

Disciplina : Ciências

Texto informativo :

Você já viu falar sobre plantas carnívoras :

O que você sabe sobre elas ?

CURIOSIDADES SOBRE PLANTAS CARNÍVORAS

AS PLANTAS CARNÍVORAS ATRAEM BICHINHOS COM SUAS CORES E PERFUMES, MAS CADA ESPÉCIE TEM UM JEITO DE PRENDÊ-LOS. ALGUMAS SE FECHAM, APRISIONANDO O INSETO QUANDO ELE SE APROXIMA. OUTRAS CAPTURAM A PRESA COM SEUS PELOS PEGAJOSOS. E HÁ AINDA AS QUE TÊM FOLHAS COLANTES. É SÓ O BICHO POUSAR NELAS E NÃO CONSEGUE MAIS SAIR!

NO BRASIL EXISTEM MAIS DE 80 TIPOS DESSAS PLANTAS. SOMOS O SEGUNDO PAÍS COM MAIOR NÚMERO DE ESPÉCIES. O PRIMEIRO É A AUSTRÁLIA.



Segundo o texto, as plantas carnívoras atraem bichinhos com :

- (A) sua música
- (B) suas cores e perfume
- (C) sua feiura

Em que país existem mais de 80 tipos dessas plantas ?

- (A) No Japão
- (B) No Brasil
- (C) Na Austrália



br cr

dr fr

gr pr

tr vr



O cravo brigou com a rosa
debaixo de uma sacada.

O cravo saiu ferido
e a rosa despedaçada.

O cravo ficou doente.

A rosa foi visitar.

O cravo teve um desmaio.

A rosa pôs-se a chorar.

Folclore

Copie.

A briga entre o cravo e a

rosa foi o maior drama.

Depois a rosa tratou de

cravo e ele agradeceu.

Dança

Escola : Grupo Escolar Municipal Monteiro Lobato

Professor: MARCOS ANTONIO MARMENTINI

Aluno : _____

3º ano

Data : __/____/2020.

Disciplina : DANÇA QUINTA APOSTILA AULAS 1 E 2.

1- FESTA JUNINA:

Vamos trabalhar um pouco as festas juninas, em virtude da pandemia não poderemos fazer nossas festanças em nosso arraial escolar como fazíamos todos os anos então vamos relembrar um pouco de nossas brincadeiras:



CAÇA-PALAVRAS

Encontre as palavras escritas ao lado no quadro abaixo

- quadrilha
- caipira
- fogueira
- barraca
- pipoca
- batata-doce
- bandeirinhas
- paçoca
- sanfoneiro
- milho verde

v	e	q	s	s	l	i	a	r	i	s	t	a	s	t	b
i	f	o	g	u	e	i	r	a	p	m	v	a	c	a	a
b	o	s	c	o	k	u	b	p	a	c	o	c	a	m	t
a	a	x	e	l	u	m	r	s	c	a	c	x	z	y	a
n	c	d	n	b	v	c	a	r	a	l	i	r	s	p	t
d	e	s	o	u	q	u	a	d	r	i	l	h	a	r	a
e	a	o	q	f	e	i	r	b	e	a	a	r	n	s	d
i	o	l	c	s	v	t	l	o	i	c	r	e	f	p	o
r	u	m	i	l	h	o	v	e	r	d	e	s	o	a	c
i	o	c	l	o	i	o	i	n	o	b	r	n	n	i	e
n	e	a	p	s	r	m	l	c	e	a	o	a	e	a	i
h	e	i	t	r	e	a	r	t	o	r	a	f	i	a	c
a	l	p	i	p	o	c	a	r	a	r	r	l	r	g	o
s	d	i	n	s	t	o	n	e	a	a	e	o	o	e	a
s	a	r	a	c	a	s	d	i	v	c	r	s	a	o	t
r	f	a	s	u	a	s	c	a	z	a	o	e	r	n	o
v	m	i	l	d	b	a	d	i	s	s	a	h	a	o	o

2- escreva aqui algumas danças que são típicas das festas juninas que comemoramos neste mês?

.....

.....

.....

.....

.....

Artes

Escola : Grupo Escolar Municipal Monteiro Lobato

Professor: MARCOS ANTONIO MARMENTINI

Aluno : _____

3º ano

Data : __/____/2020.


Disciplina : ARTES QUINTA APOSTILA AULAS 1 E 2.

1- VAMOS TRABALHAR A RELEITURA DE UMA IMAGEM.

Você sabe o que é fazer uma releitura de uma imagem, ok , fazer uma releitura de uma imagem é simplesmente você refazer novamente uma imagem ou uma figura ,a releitura necessariamente não é você fazer uma cópia fiel da imagem, em uma releitura você pode modificar um pouco da figura original, adaptando com suas ideias sem que a mesma perca a essência inicial.

vamos lá trabalhar então.....

veja a imagem;



FAÇA A RELEITURA DA IMAGEM AQUI SOMENTE DESENHADA SEM PINTAR:

Escola : Grupo Escolar Municipal Monteiro Lobato

Professor: MARCOS ANTONIO MARMENTINI

Aluno : _____

3º ano

Data : __/____/2020.

Disciplina : ARTES QUINTA APOSTILA AULAS 3 E 4.

1-Vamos trabalhar uma imagem colorida agora e fazer uma releitura completa desenhando e pintando a mesma:



vamos lá agora você vai fazer a releitura total desenhando e pintando a imagem aqui: lembre se você pode modificar um pouco a imagem.....

Língua Inglesa

OLÁ MEUS QUERIDOS!

VAMOS ESTUDAR MAIS UM POUCO! ESPERO QUE VOCÊS
ESTEJAM GOSTANDO DAS ATIVIDADES!

UM ABRAÇO
TEACHER RAQUEL



GRUPO ESCOLAR MUNICIPAL MONTEIRO LOBATO

PROFESSORA: RAQUEL ADRIANA SOUZA

DATA: ___/___/___

ALUNO(A): _____

MINHAS ATIVIDADES DE LÍNGUA INGLESA

THE COLORS (AS CORES)

OBSERVE AS CORES DO QUADRO DA PÁGINA SEGUINTE E FAÇA UM DESENHO USANDO TODAS AS CORES DO QUADRO.

Let's Learn Colors

Printable Cards




Red



Yellow




Blue



Green



Purple



Pink




Orange




Magenta



Gray




Black



White









Brown



MINHAS ATIVIDADES DE LÍNGUA INGLESA

PINTE A IMAGEM ABAIXO FAZENDO OS CÁLCULOS E USANDO A COR DO RESULTADO INDICADO AO LADO DA IMAGEM:

-  1
-  2
-  3
-  4
-  5
-  6
-  7



Ed Física

GRUPO ESCOLAR MUNICIPAL MONTEIRO LOBATO

PROFESSORA: Camila Paulina Brum

DATA: ____/____/____

3ºano.

ALUNO(A): _____

1ª aula

1- O nosso corpo é formado por três partes, cabeça, tronco e membros.

a) O que são membros superiores?

b) O que são membros inferiores?

GRUPO ESCOLAR MUNICIPAL MONTEIRO LOBATO

PROFESSORA: Camila Paulina Brum

DATA: ____/____/____

3ºano.

ALUNO(A): _____

2ª aula

Pinte os quadrinhos com a resposta certa.

1- O nosso corpo é formado de:

- Duas partes
- Três partes
- Quatro partes

2- Os olhos, a boca, o nariz, e as orelhas ficam:

- no tronco
- nos membros
- na face

3- O coração está localizado:

- na face
- no tronco
- nos membros

4- A perna faz parte dos:

- membros superiores
- membros inferiores

GRUPO ESCOLAR MUNICIPAL MONTEIRO LOBATO

PROFESSORA: Camila Paulina Brum

DATA: ___/___/___

3ºano.

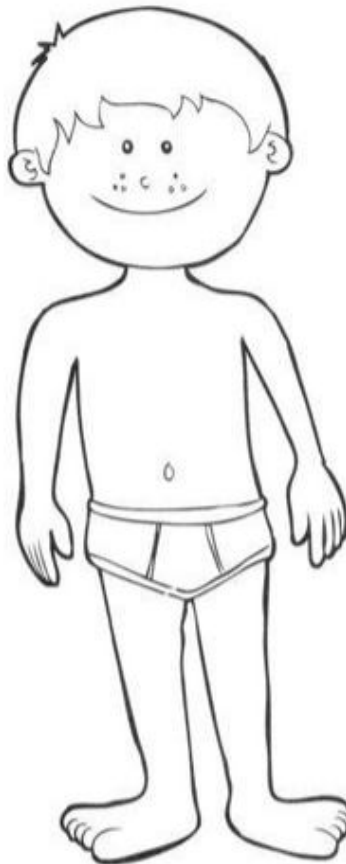
ALUNO(A): _____

3ª aula

Preste bem atenção nas cores!

Corpo humano

Observe o corpo do menino e faça o que se pede.



- a) Pinte os membros superiores de vermelho;
- b) Pinte os membros inferiores de azul;
- c) Pinte a cabeça de amarelo;
- d) Pinte o tronco de marrom.



GRUPO ESCOLAR MUNICIPAL MONTEIRO LOBATO

PROFESSORA: Camila Paulina Brum

DATA: ____/____/____

3ºano.

ALUNO(A): _____

4ª aula

1- Faça uma lista com o nome de brincadeiras que utilizem corda.

2- Faça uma lista com nomes de brincadeiras que utilizam bola.

GRUPO ESCOLAR MUNICIPAL MONTEIRO LOBATO

PROFESSORA: Camila Paulina Brum

DATA: ____/____/____

3ºano.

ALUNO(A): _____

5ª aula

Esporte é vida

Vida e esporte
estão muito ligados
para jovens e adultos
em qualquer idade

Esporte com bola é sensacional !
vôlei, basquete, tênis, handebol
e futebol.

Judô e karatê
são esportes de lutar
musculação e natação
melhoram nossa respiração

Não precisa ser atleta
para deles participar
basta apenas ser esperto
para em deles praticar

1- Circule o nome dos esportes, que contém no texto.

GRUPO ESCOLAR MUNICIPAL MONTEIRO LOBATO

PROFESSORA: Camila Paulina Brum

DATA: ___/___/___

3ºano.

ALUNO(A): _____


6ª aula

Escreva o nome do esporte de acordo com a imagem.

CRUZADINHA



--	--	--	--	--	--	--	--



--	--	--	--



--	--	--	--	--	--	--	--



--	--	--	--	--

Grupo Escolar Municipal Monteiro Lobato

Coronel Martins, _____ de _____ de 2020.

Professor: Gilberto Bett

Disciplina: Informática

Aluno: _____

Turma: 3º Ano

9ª SEMANA

MICROSOFT WORD – TECLAS DE ATALHOS DO TECLADO

Segue abaixo uma lista de algumas teclas de atalho mais utilizadas no Microsoft Word.

TECLAS DE ATALHO	FUNÇÃO
SHIFT + F3	Altera letras para maiúsculas ou minúsculas
CTRL + SHIFT + A	Formata como maiúsculas
CTRL + N	Formata em Negrito
CTRL + S	Aplica sublinhado
CTRL + SHIFT + W	Aplica sublinhado, mas só em palavras
CTRL + SHIFT + D	Aplica duplo sublinhado
CTRL + I	Aplica formatação em itálico
CTRL + Q	Altera a seleção de letra para o tipo "SYMBOL"
SHIFT + F1	Remove formatação de texto
CTRL + 1	Define espaçamento simples entre linhas
CTRL + 2	Define espaçamento duplo entre linhas
CTRL + 5	Define espaçamento entre linhas de 1,5
F11	Centraliza um parágrafo
CTRL + J	Justifica um parágrafo
CTRL + E	Alinha um parágrafo à esquerda
CTRL + H	Alinha um parágrafo à direita
CTRL + M	Avança um parágrafo a partir da esquerda
CTRL + Q	Remove a formatação de parágrafo
CTRL + T	Seleciona tudo

TECLAS DO MENU ARQUIVO

CTRL + O Novo
CTRL + A Abrir
CTRL + B Salvar
CTRL + P Imprimir

Grupo Escolar Municipal Monteiro Lobato

Coronel Martins, _____ de _____ de 2020.

Professor: Gilberto Bett

Disciplina: Informática

Turma: 3º Ano

Aluno: _____ 10ª SEMANA

TECLAS DE FUNÇÃO

F1 - Ajuda; Assistente do Office
F2 - Mover textos gráficos
F3 - Inserir uma entrada de texto
F4 - Repetir a última acção
F5 - Comando "ir para" (menu Editar)
F6 - Painel seguinte
F7 - Ortografia e gramática (menu Ferramentas)
F8 - Alargar uma seleção
F9 - Atualizar campos seleccionados
F10 - Ativar a Barra de menus
F11 - Ir para o campo seguinte
F12 - Guardar como (menu Ficheiro)

TECLAS DO MENU EDITAR

CTRL + Z Anular introdução
CTRL + R Repetir introdução
CTRL + X Cortar
CTRL + C Copiar
CTRL + V Colar
DEL Limpar
CTRL + T Seleccionar tudo
CTRL + L Localizar
CTRL + U Substituir

ATIVIDADE 01: Para a 5ª Apostila, você deverá procurar e pintar ou contornar com lápis de colorir as palavras abaixo no caça palavra:

REMOVER
SELEÇÃO
APLICAR
COLAR
JUSTIFICAR
LOCALIZAR
MENU
ORTOGRAFIA
ALARGAR
ALINHAR

